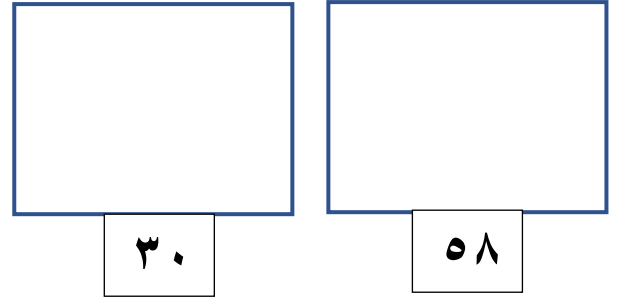
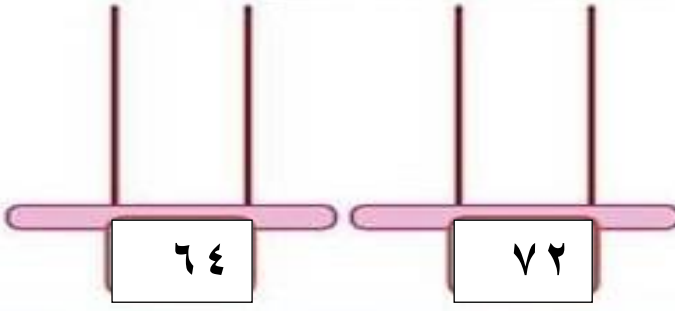

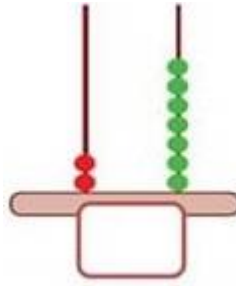
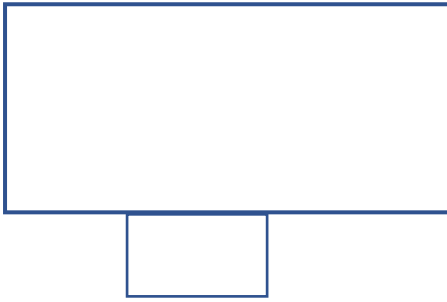


ورقة عمل للصف الأول في الرياضيات (الأعداد من ٣٠ - ٩٩)

السؤال الأول / ارسم بحسب العدد المطلوب :-



السؤال الثاني / اكتب العدد



اكتب بالصورة الموسعة :-

$$68 = \text{---} \text{ أحاد} + \text{---} \text{ عشرات}$$

$$52 = \text{---} \text{ أحاد} + \text{---} \text{ عشرات}$$

$$\text{-----} + \text{-----} = 34$$

$$\text{-----} + 4 = 94$$

$$47 = \text{-----} + 40$$

$$76 = \text{---} \text{ عشرات} + \text{---} \text{ أحاد}$$

$$50 = \text{-----} \text{ عشرات} + \text{---} \text{ عشرات}$$

السؤال الثالث / اكتب الأعداد بالرموز :-

$$\square = \bullet \text{ خمس وستون}$$

$$\square = \bullet \text{ أربع وعشرون}$$

$$\square = \bullet \text{ ثلاثة وتسعون}$$

$$\square = \bullet \text{ ٧ أحاد و ٤ عشرات}$$

$$\square = \bullet \text{ ٥ عشرات و ٢ أحاد}$$

$$\square = \bullet \text{ ٨٠ + ١}$$

$$\square = \bullet \text{ ٦ + ٣٠}$$

السؤال الرابع / اكتب العدد

- العدد التالي للعدد ٤٩ هو -----

- العدد السابق للعدد ٧٠ هو -----

- العدد الذي يلي ٥٦ هو -----

- العدد الذي يسبق ٣٧ هو -----

السؤال الخامس / أ - ضع دائرة حول منزلة الأحاد :-

٢١ ، ٤٥ ، ٧٨ ، ٩١ ، ١٦ ، ٢٥

ب- ضع دائرة حول منزلة العشرات :-

٢٤ ، ٨٤ ، ٣٥ ، ٥٨ ، ٦٧ ، ٩٨

ب - حوِّط العدد الأكبر :-

(٤٠ ، ٣٧ ، ٥٤ ، ٤٦)

السؤال السادس / أ - حوِّط العدد الأصغر

(٣٨ ، ٧٦ ، ٩٤ ، ١٦)

السؤال السابع / ضع إشارة (= ، < ، >)

٦٥ ٥ أحاد و ٦ عشرات -
٤٠ + ٨ ٤ + ٨ -
٨٩ ٩٨ -
٥٧ ٧ + ٥٠ -

السؤال الثامن / أكتب قيمة الرقم المشار إليه :-

٧٠
↓

٤٨
↓

٩٦
↓

٣٥
↓

السؤال التاسع / أكمل النمط :-

<input type="text"/>	<input type="text"/>	<input type="text"/>	<input type="text"/>	<input type="text"/>	<input type="text"/>	٣٠	٢٠	١٠
٢٢	<input type="text"/>	<input type="text"/>	١٩	<input type="text"/>	<input type="text"/>	١٦	١٥	١٤
<input type="text"/>	<input type="text"/>	٤٢	<input type="text"/>	<input type="text"/>	٣٩	<input type="text"/>	٣٧	٣٦
<input type="text"/>	<input type="text"/>	<input type="text"/>	<input type="text"/>	<input type="text"/>	<input type="text"/>	٣٥	٢٥	١٥
<input type="text"/>	٨٣	<input type="text"/>	٨١	<input type="text"/>	٧٩	<input type="text"/>	٧٧	٧٦